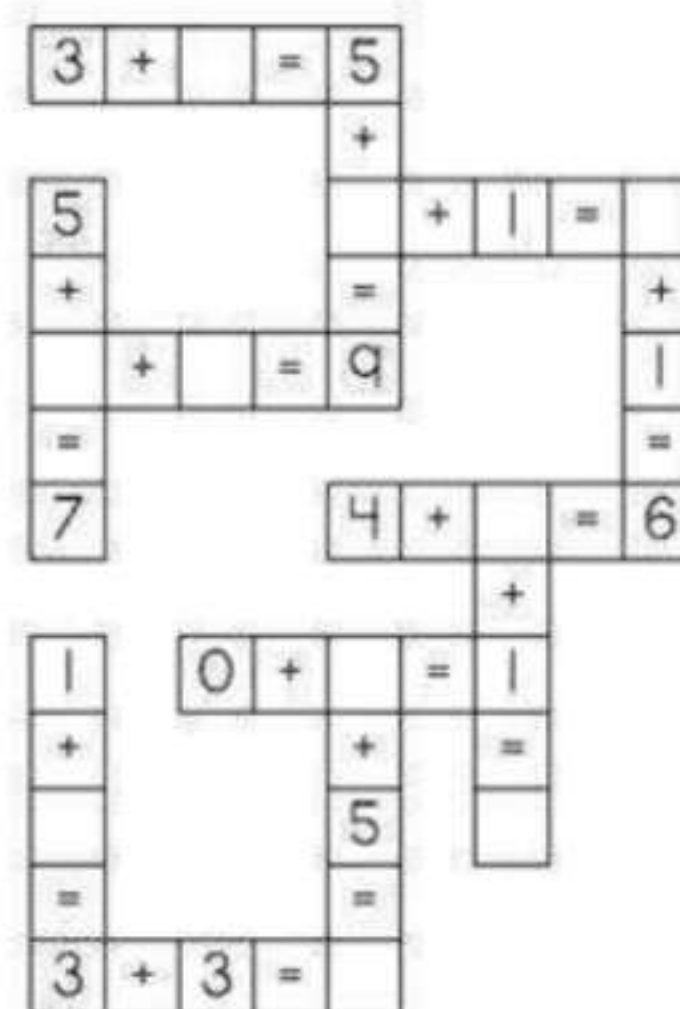
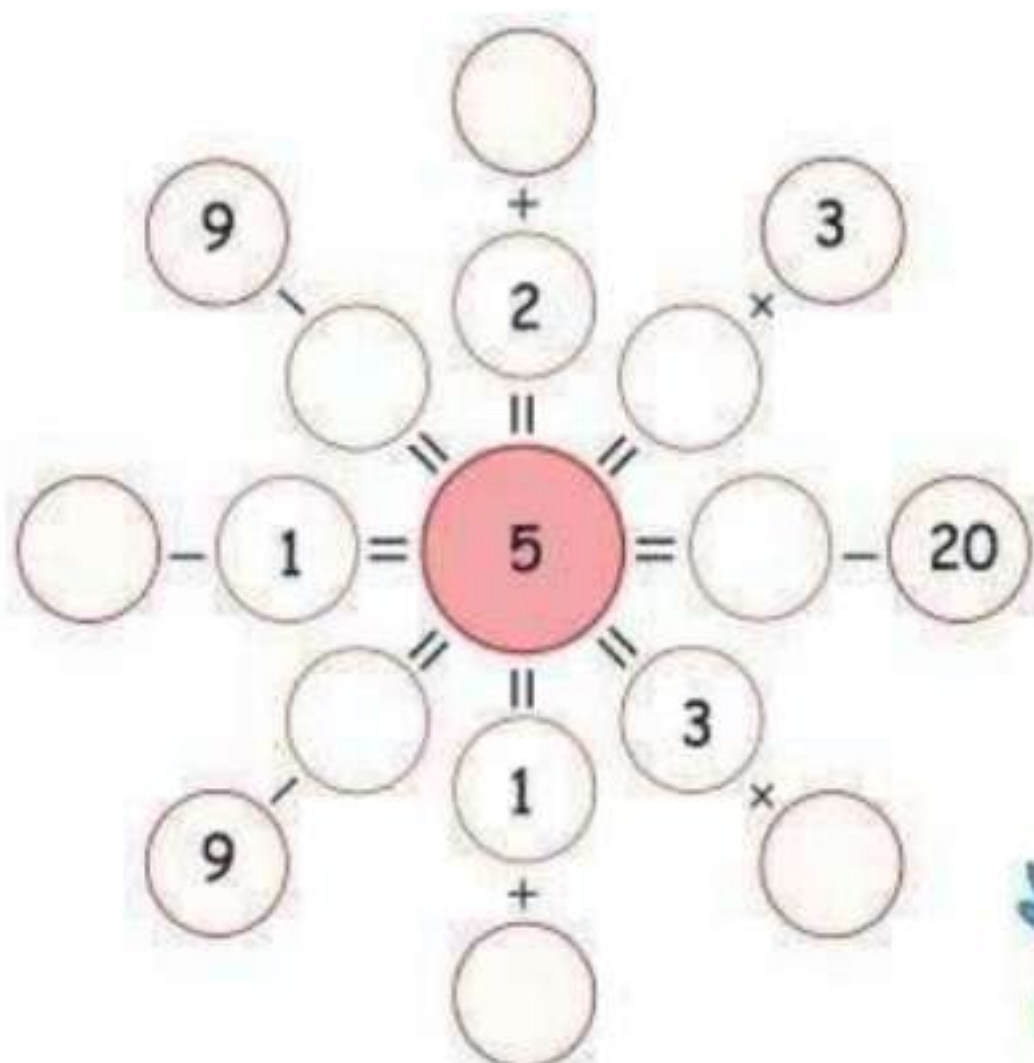


D. A.V. PUBLIC SCHOOL, BARIATU, RANCHI

Holiday Homework (2025-2026)

CLASS-III SUB- MATHS

Q1) Solve the following puzzle:



Q2) I rolled 4 dice altogether and got 1, 4, 6 and 3 as numbers.
Build the greatest and the smallest number using these digits.
Also find their difference and sum.

- Greatest number
- Smallest number
- Their sum
- Their difference



Edit with WPS Office



Q3) Fill in the blanks.

- a) There are ____ hundred in one thousand.
- b) Complete the pattern 1100, 2200, 3300, __, ____, ____
- c) $2000 + 900 + 50 + 0 = \underline{\hspace{2cm}}$
- d) $\underline{\hspace{2cm}} + 76 = \underline{\hspace{2cm}} + 26$
- e) $2024 - \underline{\hspace{2cm}} = 2024$

Q4) Choose the correct answers.

- a) $14 - \underline{\hspace{2cm}} = 10 - 2$
 - i. 3 ii. 10 iii. 6 iv. 8
- b) The number in which place value of 9 is 9000.
 - i. 2349 ii. 9452 iii. 3962 iv. 694
- c) Predecessor of smallest 4-digit number is
 - i. 1000 ii. 9999 iii. 10 iv. 999
- d) When we add 100 to 1432, the digit at ____ place increases by 1.
 - i. Ones ii. Tens iii. Hundreds iv. Thousands
- e) The difference between 9000 and 2482 is
 - i. 6518 ii. 11482 iii. 6000 iv.

Q5) Word problems

- a) There are 2765 men, 2576 women and 3100 children in a town. What is the total population of the town?
- b) Mrs. Renu wanted to buy a mobile for ₹9120 but she had only ₹2500 with her. How much more money does she need?



Q6) Rewrite the following in ascending order.

a) 259, 3263, 579, 2600, 9543

b) 7340, 7043, 7403, 2437, 7304

Q7) Solve and compare using '<', '>' or '='

a) $999 + 101$ ____ $5590 - 4460$

b) $2000 + 20$ ____ $1000 + 48$

c) $3653 - 2624$ ____ $1029 + 2624$

d) $7482 + 1100$ ____ $1100 + 7482$

Q8) Write expanded form in 2 ways for

a) Largest 4-digit number.

b) Successor of 4837

c) Predecessor of 5050

Q9) Activity: Make an abacus for a 4-digit number. Q10)

Learn and write tables from 2 to 15.

Q11) Revise topics Numbers Up to 9999 and Addition.

Take care and keep studying





D.A.V. Public School BARIATU, Ranchi

HOLIDAY HOMEWORK (2025-26)

Sub - ENGLISH

Class -3

1. Separate the names of persons, animals/birds and things from the box given below

Adil	parrot	hospital	duck	top
Chris	eraser	beach	lion	zoo
fork	supermarket	zebra	sister	Muscat
Varun	cat	brother	laptop	pillow


Person	Place	Animal	Thing

2. Refer to the given picture and answer the question that follows-



Edit with WPS Office

The zoo



Be kind to animals!

- Name any five animals that you can find in the picture of the zoo.
 - Write two DO'S and DONT'S that you must follow while visiting a zoo.
- Read the book ' How the Earth got its beauty ' by Sudha Murty . Write about the characters that you find amazing in the story.
 - Paste a picture of your favourite pet . Write five lines about it .
 - Find and encircle the rhyming word of 'hump ' in the given circle-

Lump breathe
Dump coo
Zoo see
None pump
Bump whale
Bump



Edit with WPS Office



D.A.V. Public School BARIATU, Ranchi
HOLIDAY HOMEWORK
Subject - Social Science
Class - 3

- 1. Make a collage of a family tree . Paste the picture of your family members .**
- 2. Write the name of the state that you visited in the summer vacation . Paste pictures of the famous tourist destinations of that state . Also write few lines about them.**
- 3. Prepare a Thanksgiving card for your mother .**
- 4. 'Rangoli is the art of making beautiful designs with colours' , flowers. Draw any two beautiful rangoli design to justify the statement.**



HOLIDAY HOMEWORK ASSIGNMENT

SCIENCE

Do the following questions in Science holiday homework Notebook:

- 1. Find out about the sensing capability of dogs and hearing capability of bats. Do they have something special in them?*
- 2. Prepare a chart showing a few herbs, shrubs, trees, climbers and creepers.*
- 3. Learn and write keywords of Chapter 1 and Chapter 2*
- 4. Revise all chapters taught in class.*
- 5. Activity-*
Make a clay model of human body and label its different
or
Make a scrapbook of types of plants.



Edit with WPS Office




Hindi Holdiaiy Homework



Edit with WPS Office

वचन

निम्न वाक्यों में चित्र के स्थान पर उचित शब्द लिख कर खाली स्थान भरों -

1.  खेल रहे हैं। _____ खेल रहे हैं।

2. हवा में  उड़ गए। हवा में _____ उड़ गए।

3. गाँव में दो  हैं। गाँव में दो _____ हैं।


4. बाग में  उड़ रही हैं। बाग में _____ उड़ रही हैं।

5.  जाल में फँस गए। _____ जाल में फँस गए।

6.  मेज़ पर रख दो। _____ मेज़ पर रख दो।

7. सोनू की जेब से  गिर गए। सोनू की जेब से _____ गिर गए।

8.  दौड़ रहे हैं। _____ दौड़ रहे हैं।

9. पार्क में  लगे हैं। पार्क में _____ लगे हैं।



Edit with WPS Office

अपठित गद्यांश

नीचे लिखे गद्यांश को ध्यान से पढ़कर प्रश्नों के उत्तर लिखिए—

एक घने जंगल में एक शक्तिशाली हाथी रहता था। वह बहुत ज़िद्दी था। जंगल के सभी जानवर हाथी से डरते थे। गीदड़ तो उससे बहुत परेशान थे, क्योंकि उनके बच्चे हाथी के पाँव के नीचे कुचले जाते थे। वे हमेशा यही सोचते थे कि किसी तरह यह हाथी मर जाए तो उनके बच्चों के जीवन की रक्षा हो सके।



क) एक घने जंगल में कौन रहता था?

ख) हाथी से कौन डरता था?

ग) गीदड़ के बच्चे किसके पाँव के नीचे कुचले जाते थे?

घ) सही शब्द पर गोला लगाइए—

परेशान

पारेसान

परशान

कुचले

कूचले

कुचाले



Edit with WPS Office

चित्र को सही संज्ञा शब्द के साथ जोड़ो -



व्यक्ति

स्थान

वस्तु



व्यक्ति

जानवर

वस्तु



जानवर

स्थान

वस्तु



व्यक्ति

जानवर


पक्षी



व्यक्ति

स्थान

वस्तु



व्यक्ति

स्थान

वस्तु



व्यक्ति

जानवर

वस्तु



व्यक्ति

स्थान

वस्तु



Edit with WPS Office

चित्र व्याख्या (PICTURE EXPLANATION)

नीचे दिए गए चित्र को पहचानकर खाली स्थान में सही उत्तर चुनकर लिखिए।

Identify the picture given below and write the correct answer in the blank space.



खेल	मज़ा	गेंद	पार्क	दो
-----	------	------	-------	----

1. यह एक है।
2. लड़का पार्क में रहा है।
3. लड़के के पास एक है।
4. वह कुत्तों के साथ खेल रहा है।
5. लड़के को आ रहा है।



**Note : Do the assignment in Hindi
Homework Notebook**



Edit with WPS Office